



Adı ve Soyadı:

Sınıfı:

Numarası:

**SORULAR**

- ➔ 1. Bilişim teknolojilerinin kullanım alanlarından 5 tanesini yazınız. (10 Puan)

1	-----
2	-----
3	-----
4	-----
5	-----

- ➔ 2. Aşağıdaki metni okuduktan sonra verilen soruyu cevaplayınız. (10 Puan)








Erdem, okuldan sonra eve geldiğinde ödevlerini tamamlamak için dizüstü bilgisayarını kullanmaktadır. Yatağına oturur, dizüstü bilgisayarını açar, EBA'ya giriş yapar ve gönderilen ödevlerini tamamlar. Fakat bunun için en az 1 saat süre harcar ve fiziksel olarak yorulur.



Erdem'in özellikle bilgisayarı kullanırken rahat çalışması ve sağlığının olumsuz etkilenmemesi için hangi ergonomik kurallara uyması gerekiyor? Bilgisayarı kullanırken nelere dikkat etmesi gerekiyor? 5 tane örnek veriniz.

1	-----
2	-----
3	-----
4	-----
5	-----

- ➔ 3. Aşağıda verilen işletim sistemi yazılımlarının adlarını, altındaki kutucuklara yazınız. (10 Puan)

				
<input type="text"/>	<input type="text"/>	<input type="text"/>	<input type="text"/>	<input type="text"/>

- ➔ 4. Aşağıda hakkında bilgi verilen dünyanın en zenginleri arasında yer alan ve bilişim teknolojilerinin gelişmesine katkı sağlayan iş insanlarının kim olduklarını yazınız. (10 Puan)

	SpaceX, uzay taşımacılığı şirketi; Tesla, elektrikli otomobil şirketi; Neuralink, insan beyni ile bilgisayar iletişimi sağlayan proje şirketinin kurucusu.	
	Windows işletim sistemi ve Word/Excel gibi ofis programlarını üreten Microsoft Şirketinin kurucusu.	

- ➔ 5. Aşağıda simgesi gösterilen birimlere ne denir? Yanındaki kutucuklara yazınız. (10 Puan)



Resimler













Klavye Kısayolları

6. Yanda veri depolama birimlerinin bir kısmı verilmiştir.

Buna göre 2 MB'lık bir resim dosyası kaç KB eder?  
Hesaplayarak yazınız. (10 Puan)

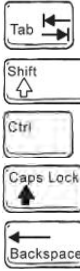
Birim	Kısaltması	Kapasite Miktarı
Byte	B	1 Byte = 8 Bit
Kilobyte	KB	1 KB = 1.024 Byte
Megabyte	MB	1 MB = 1.024 KB

7. Tabloda verilen donanım birimlerinin adlarını, numaralarıyla birlikte alttaki tabloda doğru alanlara yazınız. (20 Puan)

1 	2 	3 	4 	5 
6 	7 	8 	9 	10 

GİRİŞ BİRİMİ	HEM GİRİŞ HEM ÇIKIŞ BİRİMİ	ÇIKIŞ BİRİMİ

8. Aşağıda verilen klavye tuşlarının görevlerini karşlarına yazınız. (10 Puan)



\_\_\_\_\_


\_\_\_\_\_

\_\_\_\_\_

\_\_\_\_\_

\_\_\_\_\_

9. Poyraz, 5. sınıf öğrencisidir. Türkçenin doğru kullanımı ile ilgili araştırma projesi için PowerPoint programında bir sunum hazırlamıştır. Ancak projesini teslim etmesi gereken gün sunu dosyasını yüklemiş olduğu taşınabilir belleğini yanına almayı unutmuştur. Sizde Poyraz, ödev dosyasını evde unutma ihtimaline karşı dosyasına her yerden ulaşabilmek için USB bellek yerine hangi veri depolama yöntemini kullanabilirdi? Yazınız. (10 Puan)



10. Fare; seçme, çalıştırma, onaylama, erişim gibi birçok işlemde bilgisayara komut göndermemizi sağlar. Genellikle 3 tuşu bulunur. Bu açıklamalar ışığında Türkçe yazım kurallarına uygun bir şekilde fare sol tuşunun görevini açıklayınız. (10P)



\_\_\_\_\_

\_\_\_\_\_

\_\_\_\_\_